

讀完文章後 回答 1-5 題

一生致力於結束種族隔離政策的曼德拉，是南非首位黑人總統，他以個人魅力促進南非種族和解，成功的以非暴力行動將南非塑造成種族多元的國家，成為白人前總統德克勒克口中二十世紀最偉大的人物。

曼德拉在一九五二年成功組織並領導了「蔑視不公正法令運動」，贏得全體黑人的尊敬。他說：「讓黑人和白人成為兄弟，南非才能繁榮發展。」四十三歲那年他創建非國大（非洲人國民大會）軍事組織「民族之矛」並任總司令，第二年被捕入獄。起初白人政府以政治煽動和非法越境罪判處他五年監禁。一九六四年六月，他因陰謀顛覆罪而改判無期徒刑，從此展開漫無邊際的鐵窗生涯。

被關在羅本島監獄期間，白天曼達拉必須做打石頭、撈海帶、採石灰等苦力，晚上則被關在不到四平米的「鋅皮房」裏。由於是要犯，每天都有三個看守尋找各種理由虐待他。

「全球總統」的魅力

然而無盡的折磨並沒有摧毀曼德拉的意志。他說：「在那漫長而孤獨的歲月中，我對自己的人民獲得自由的渴望，變成了一種對所有人，包括白人和黑人，都獲得自由的渴望。」在他和平非暴力精神的鼓舞下，一九八一年一萬多名法國人聯名要求釋放曼德拉；一九八二年全球五十三個國家中的兩千名市長簽名請願釋放曼德拉；一九八三年英國七十八名議員發表聯合聲明，五十多個城市市長在倫敦盛裝遊行，要求英國首相向南非施加壓力，恢復曼德拉自由。如此「強大的人緣」無人能及，難怪有人稱曼德拉為「全球總統」。

在國際社會的長期制裁下，一九九零年二月十一日，南非白人政府迫於無奈最終釋放了曼德拉。此時這位七十二歲的老人已經在獄中度過了漫長的歲月。

寬厚仁慈的囚犯

當他步出監獄時，他對自己的苦難沒有一絲怨恨。他說：「如果我讓憤怒纏糾我，就等同仍然囚於牢獄內。」一九九四年五月，曼德拉成為南非第一位全民選出的黑人總統。在總統就職儀式上，他把三位特殊

客人介紹給了在場的全球政要。看著年邁的曼德拉緩緩站起身來，恭敬地向三位曾關押他的看守致敬，整個世界都靜下來了。曼德拉博大的胸襟和寬宏的精神，讓南非那些殘酷虐待他的白人無地自容，也讓所有人肅然起敬。

——改寫自《曼德拉的九十年傳奇人生》

1. 香港歌手謝霆鋒在選秀節目上高歌一首 Beyond 為曼德拉所寫的歌曲，創作者用這首歌紀念他為南非所付出的努力，歌詞中提及曼德拉致力爭取廢除種族隔離政策，請依照以下歌詞節錄，判斷是哪一首歌：

A	多少次 迎著冷眼與嘲笑 從沒有放棄過心中的理想 一剎那恍惚 若有所失的感覺 不知不覺已變淡	海闊天空
B	遙遠彼岸 黃燈之下 我說過有一天 共妳渡遠方天邊 繁囂街道 無邊景象 縱有以往所想 沒法像我的家鄉	溫暖的家鄉
C	可否不分膚色的界限 願這土地裡 不分你我高低 繽紛色彩閃出的美麗 是因它沒有 分開每種色彩	光輝歲月
D	誰願意將一生扮作英雄 去面對風雨共創傷 難道世間 真的沒有公道 縱沒有別人可高聲呼叫我不甘 獨我 放聲瘋狂叫嚷	不可一世

解析：由不分膚色的界限、不分你我高低，可判斷歌詞主要表達的是膚色不該是造成隔離及地位高低的主因，故宜選（C）。

2. 在讀完這篇文章後，小玲想要用學過的詩句來形容曼德拉在總統就職儀式上的行為，你認為以下選項何者最適合？

- (A) 不經一番寒徹骨，焉得梅花撲鼻香
- (B) 千磨萬擊還堅勁，任爾東西南北風
- (C) 放下屠刀，立地成佛
- (D) 意志堅似鐵，度量大似海

解析：(A) 比喻必須經過艱苦磨練，才能獲得美好的結果。(B) 藉描寫竹的堅韌頑強，述說自己剛正不阿的氣節。(C) 比喻只要真心改惡從善，立即成為好人。(D) 形容一個人的意志很堅強，胸襟廣濶得像大海，可以容人。此題凸顯出用寬容之心對待昔日為難他的獄卒，故宜選(D)。

3.以下為曼德拉歷年大事，請根據本文線索，用數字編號由先而後排列其順序。

當選總統	遭判無期徒刑	任民族之矛總司令	被南非政府釋放
4	2	1	3

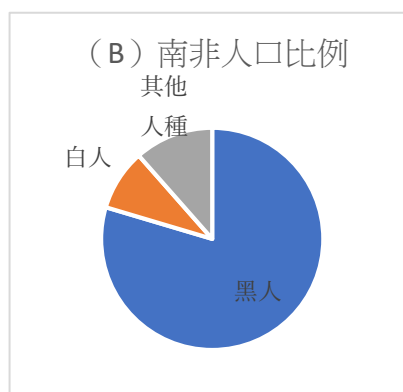
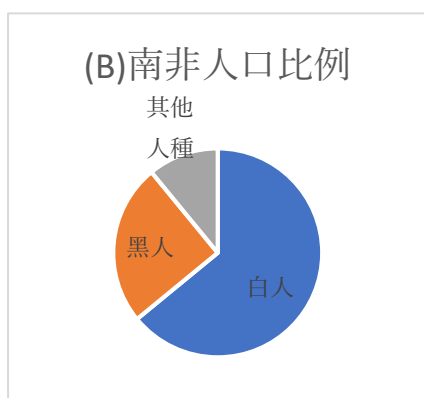
解析：時間先後為 1964 年以前擔任民族之矛總司令，1964 年被判處無期徒刑，1990 被政府釋放，1994 年當選總統。故順序為 4—2—1—3。

4. 曼德拉這位南非鬥士幾乎用自己整個青春和壯年為代價，為抗爭不公平的種族隔離奉獻了全部力量，最終獲得國際社會的支持與敬意，成功推動南非種族隔離制度的廢除。他曾說「讓黑人和白人成為兄弟，南非才能繁榮發展」你是否同意他這個想法？為什麼？

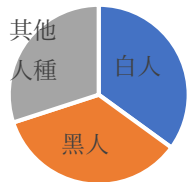
解析：我同意他的想法。

曼德拉所提倡的是反對種族隔離政策，希望提升黑人的各項權利，不管黑人或白人都能平等，在和諧共生中促進國家的發展，並非只著重在黑人強勢主導南非的政權。所以，他在出獄後用寬容的態度原諒政敵，才能使南非走向和平共融的未來。

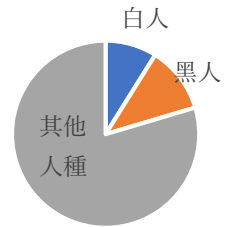
5.周老師在課堂中提到，2018 年南非總人口比例為：黑人 79.6%，白人 8.9%，她請學生在專題報告中用圖表顯示，請問下列哪一張圖表最恰當？



(C) 南非人口比例



(D) 南非人口比例



解析：數據中顯示：南非人口比例黑人為 79.6%，白人 8.9%，因此其他人種為 11.5%，由多到寡比例為：黑人—其他人種—白人，此題宜選（B）